

Einkaufen – Bezahlen – Herausgeben












1. Aufgabe:

Anna hat 2 Eurostücke gesammelt.











Damit kauft Anna ein und bezahlt in jedem Geschäft mit einem 2 € Stück.
Schreibe in die Tabelle, wie viele Geldstücke sie jeweils zurück bekommt.

Anna

						
 0,55 €	2	2	0	1	0	0
 1,29 €	3	1	0	0	0	1
 0,43 €	3	0	0	1	2	0
 Zeitschrift 1,32 €	1	0	1	1	1	1
 1,17 €	1	1	1	0	1	1
 0,81 €	2	0	1	1	2	0

2. Aufgabe:

- Wie viel Geld hat jedes Kind gespart? Schreibe den Geldbetrag unten in die Tabelle.
- Wie viel Geld fehlt jedem Kind noch bis es 10 € gespart hat? Rechne im Heft!

 Jens	 Paul	 Clara	 Steffi
			
5,55 €	5,05 €	3,88 €	4,76 €