






Stellenwerttafel: Zehntel und Hundertstel

Aufgabe: Schreibe die Geldbeträge als Kommazahl auf und trage sie in die Stellenwert – Tabelle ein!

Hunderter H	Zehner Z	Einer E	zehntel z	hundertstel h	Kommazahl
					
3	7	4	1	6	
2	0	5	0	3	
8	9	0	2	5	
1	0	3	5	0	
					308,25 €
					420,09 €
					101,05 €
					102,06 €
					836,09 €
					905,95 €
					$150 \text{ €} + \frac{9}{10} \text{ €}$
					$4 \text{ €} + \frac{45}{100} \text{ €}$