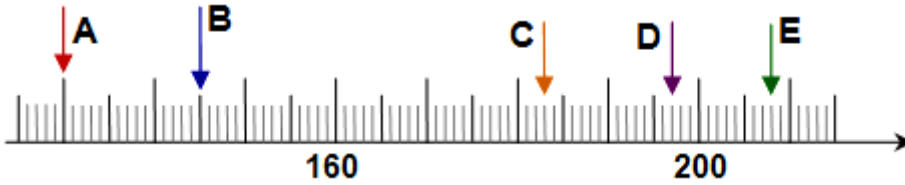


Zahlen finden am Zahlenstrahl

1. Aufgabe:

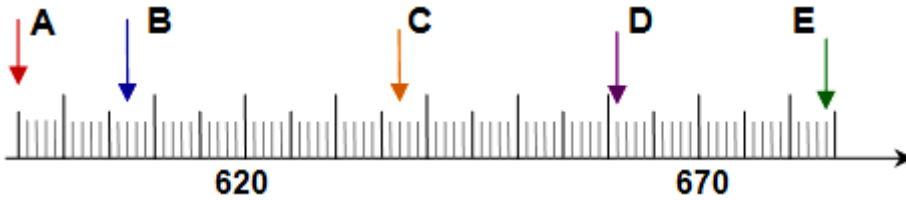
Auf welche Zahlen zeigen die Pfeile am Zahlenstrahl?



A =
B =
C =
D =
E =

2. Aufgabe:

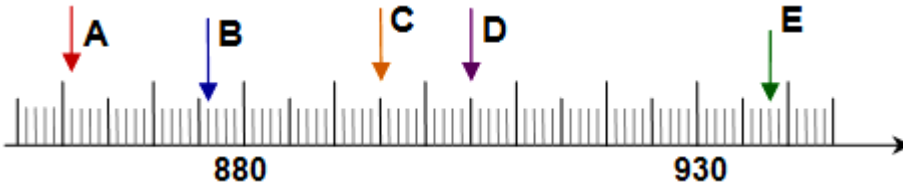
Auf welche Zahlen zeigen die Pfeile am Zahlenstrahl?



A =
B =
C =
D =
E =

3. Aufgabe:

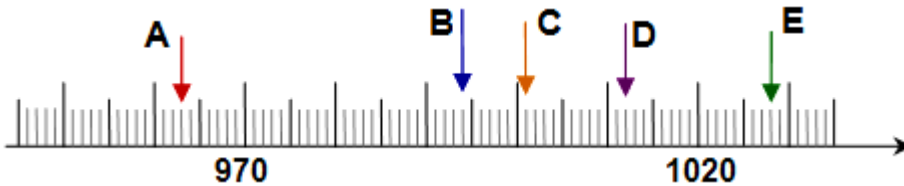
Auf welche Zahlen zeigen die Pfeile am Zahlenstrahl?



A =
B =
C =
D =
E =

4. Aufgabe:

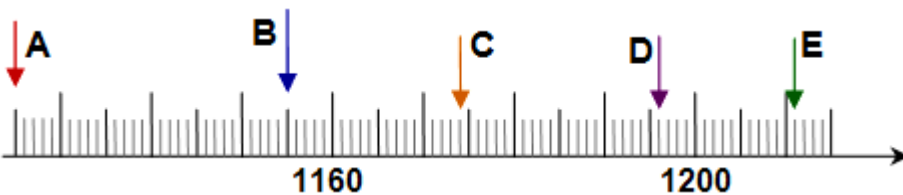
Auf welche Zahlen zeigen die Pfeile am Zahlenstrahl?



A =
B =
C =
D =
E =

5. Aufgabe:

Auf welche Zahlen zeigen die Pfeile am Zahlenstrahl?



A =
B =
C =
D =
E =